



# *Prefeitura Municipal de Grão-Pará*

**ESTADO DE SANTA CATARINA**

**SECRETARIA MUNICIPAL DE EDUCAÇÃO E CULTURA**

**COMPONENTES CURRICULARES: LÍNGUA PORTUGUESA, MATEMÁTICA.**

**TURMA: 3º ANO**

**TURNO: VESPERTINO**

**CARGA HORÁRIA: 20 HORAS**

**PROFESSORA: IVANEIDE H. PICHER PERIN**

**PLANEJAMENTO SEMANAL DE 08 A 12 DE MARÇO DE 2021**

**ATIVIDADES DE APRENDIZAGEM**

**OLÁ CRIANÇAS!**

**AO RETORNAR A ESCOLA DEVOLVA ESSAS ATIVIDADES RESOLVIDAS  
DENTRO DE UM ARQUIVO .**

**HABILIDADES DE APRENDIZAGEM DE LÍNGUA PORTUGUESA:**


- RECONHECER O ALFABETO MAIÚSCULO E MINÚSCULO .
- LER E ESCREVER PALAVRAS ESCRITAS COM **T E D, V E F**.
- PRODUZIR FRASES DE ACORDO COM A GRAVURA.
- DESEMBARALHE AS LETRAS E ESCREVA O NOME DOS ANIMAIS.



1-

# BRINCADELO DE ALFABETO

Vamos completar a centopéia com as letras maiúsculas e minúsculas do alfabeto.



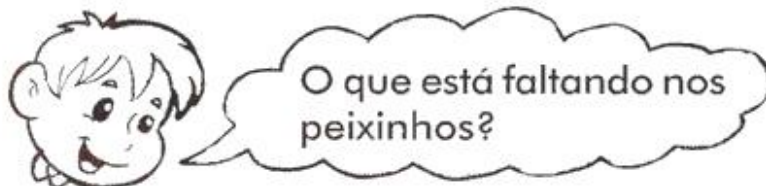


# Prefeitura Municipal de Grão-Pará


ESTADO DE SANTA CATARINA

SECRETARIA MUNICIPAL DE EDUCAÇÃO E CULTURA

2-



Em cada peixe estão faltando três letras do alfabeto. Descubra-as e escreva-as abaixo.



\_\_\_\_\_



\_\_\_\_\_



\_\_\_\_\_



\_\_\_\_\_

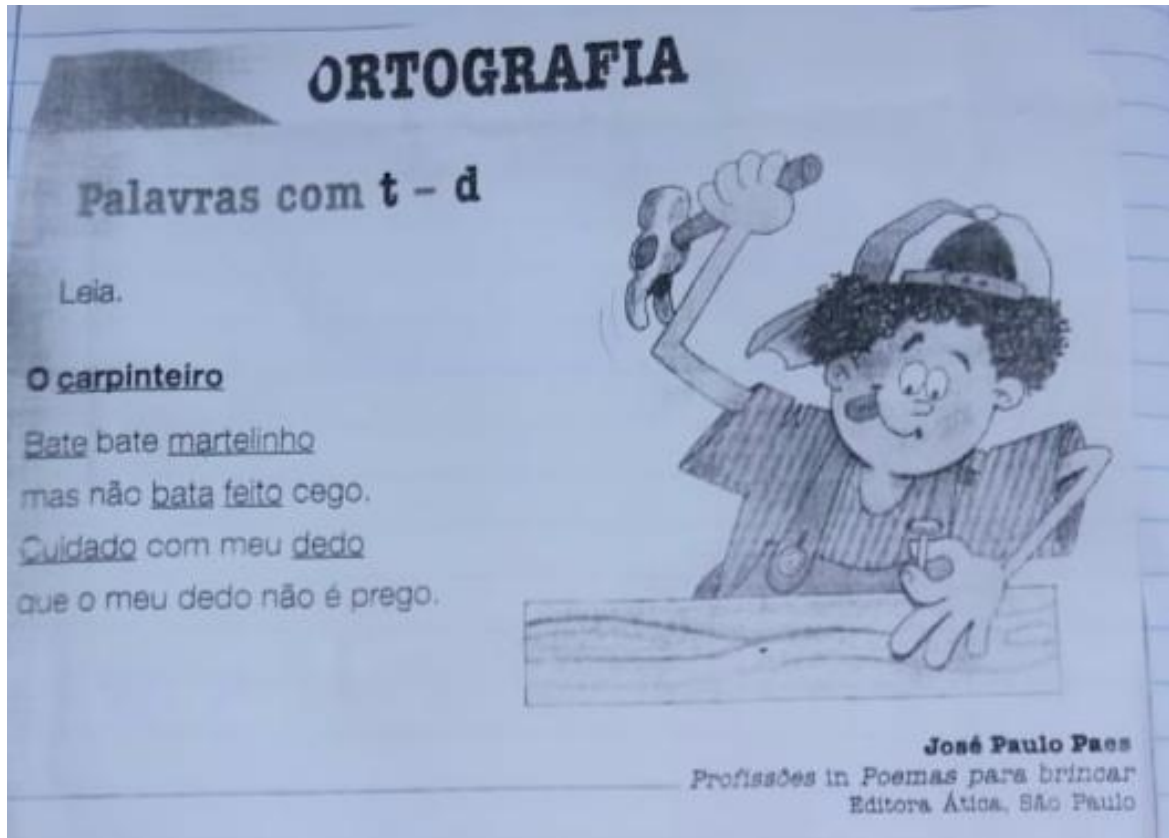


# Prefeitura Municipal de Grão-Pará

ESTADO DE SANTA CATARINA

SECRETARIA MUNICIPAL DE EDUCAÇÃO E CULTURA

3-



A- COPIE AS PALAVRAS SUBLINHADAS DO TEXTO.

---

B- COPIE E SEPARE AS SÍLABAS.

TEMPESTADE-

DESBOTADO

PREOCUPADO

BATEDEIRA

VONTADE

ENFEITADA



# Prefeitura Municipal de Grão-Pará

ESTADO DE SANTA CATARINA

SECRETARIA MUNICIPAL DE EDUCAÇÃO E CULTURA

4-

3 Forme palavras, juntando as figuras iguais, e escreva-as

a) b) c)   
d) e) f)

4 Modifique cada palavra do quadro, trocando o **t** pelo **d** ou o **d** pelo **t**. Observe o exemplo.  
gado – gato                      modo — pode — tia — bote — vendo

5 Copie, substituindo o **e** por **d** ou **t**.

cadeado                      solista                      tomate                      tucano  
cadeira                      bota                      saçu                      moema



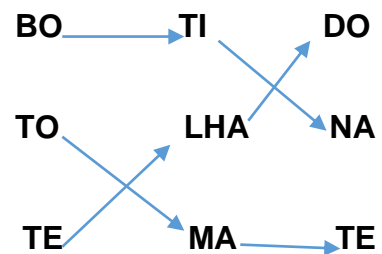
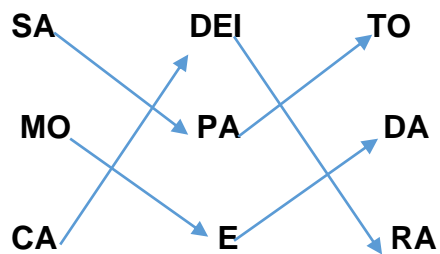


# Prefeitura Municipal de Grão-Pará

ESTADO DE SANTA CATARINA

SECRETARIA MUNICIPAL DE EDUCAÇÃO E CULTURA


## 5- SIGA AS SETAS E FORME PALAVRAS.



R- \_\_\_\_\_

---

## 6-





# *Prefeitura Municipal de Grão-Pará*

**ESTADO DE SANTA CATARINA**

**SECRETARIA MUNICIPAL DE EDUCAÇÃO E CULTURA**

## **FRASES**

1- \_\_\_\_\_  
\_\_\_\_\_

2- \_\_\_\_\_  
\_\_\_\_\_

3- \_\_\_\_\_  
\_\_\_\_\_

4- \_\_\_\_\_  
\_\_\_\_\_

5- \_\_\_\_\_  
\_\_\_\_\_

6- \_\_\_\_\_  
\_\_\_\_\_



7-

**V OU F? OBJETOS PERDIDOS**

1. Os seis objetos perdidos na cena abaixo não existiam no tempo dos dinossauros. Todos eles começam com as letras **V** ou **F**. Encontre-os e pinte-os.

2. Escreva o nome dos objetos que você encontrou.

---

---

---

---

3. Encontre, entre as palavras acima, aquelas que são compostas por duas sílabas e reescreva-as.

---

---










# Prefeitura Municipal de Grão-Pará

ESTADO DE SANTA CATARINA

SECRETARIA MUNICIPAL DE EDUCAÇÃO E CULTURA

8- DESEMBARALHE AS LETRAS E ESCREVA O NOME DOS ANIMAIS. EM TODOS OS NOMES EXISTEM AS LETRAS V OU F NO INÍCIO, NO MEIO OU NO FINAL DAS PALAVRAS.

DICA: A PRIMEIRA E A ÚLTIMA LETRA ESTÃO NO LUGAR CERTO NA PALAVRA.

	CVALAO	
	VCAA	
	FIMGORA	
	EFAELTNE	
	GIFOLHNO	



# Prefeitura Municipal de Grão-Pará

ESTADO DE SANTA CATARINA

SECRETARIA MUNICIPAL DE EDUCAÇÃO E CULTURA

9-

	CVAIPRAA	
	AEVTSURZ	
	GARIFA	
	FARGNO	
	FCOA	



**HABILIDADES DE MATEMÁTICA**

- CONSTRUIR E UTILIZAR FATOS BÁSICOS DA ADIÇÃO E SUBTRAÇÃO PARA CÁLCULO MENTAL E ESCRITO.
- CONSTRUIR A SEQUENCIA NUMÉRICA DE 100 Á 200, DESCOBRINDO OS NÚMEROS FALTANTES QUE COMPÕE A TABELA.

1-

**Para somar**



1. Complete as adições:

$5 + \square = 10$

$4 + \square = 6$

$3 + \square = 6$

$7 + \square = 9$

$5 + \square = 8$

$3 + \square = 5$

$6 + \square = 10$

$3 + \square = 7$

$5 + \square = 9$

$8 + \square = 10$

$6 + \square = 7$

$2 + \square = 4$

$4 + \square = 10$


$1 + \square = 7$

$8 + \square = 9$

$9 + \square = 10$

$6 + \square = 8$

$7 + \square = 10$







# Prefeitura Municipal de Grão-Pará


ESTADO DE SANTA CATARINA


SECRETARIA MUNICIPAL DE EDUCAÇÃO E CULTURA

## 2- RESOLVA


$22 + 15 =$
$14 + 13 =$
$12 + 7 =$
$24 + 14 =$
$35 + 14 =$
$52 + 36 =$
$47 + 23 =$
$59 + 41 =$
$61 + 37 =$
$45 + 34 =$


$22 - 15 =$
$14 - 13 =$
$12 - 7 =$
$24 - 14 =$
$35 - 14 =$
$52 - 36 =$
$47 - 23 =$
$59 - 41 =$
$61 - 37 =$
$45 - 34 =$


$22 + 15 =$
$14 + 13 =$
$12 + 7 =$
$24 + 14 =$
$35 + 14 =$
$52 + 36 =$
$47 + 23 =$
$59 + 41 =$
$61 + 37 =$
$45 + 34 =$


$22 - 15 =$
$14 - 13 =$
$12 - 7 =$
$24 - 14 =$
$35 - 14 =$
$52 - 36 =$
$47 - 23 =$
$59 - 41 =$
$61 - 37 =$
$45 - 34 =$



# Prefeitura Municipal de Grão-Pará

ESTADO DE SANTA CATARINA

SECRETARIA MUNICIPAL DE EDUCAÇÃO E CULTURA

3-

COMPLETE OS QUADRINHOS COM OS NÚMEROS FALTOSOS.

$8 + \square = 15$	$\square + 9 = 14$
$\square + 5 = 12$	$8 + \square = 15$
$7 + \square = 16$	$\square + 6 = 11$
$\square + 2 = 11$	$9 + \square = 12$
$3 + \square = 10$	$\square + 5 = 14$
$\square + 9 = 18$	$6 + \square = 16$
$8 + \square = 16$	$\square + 2 = 10$
$\square + 5 = 13$	$6 + \square = 13$
$8 + \square = 12$	$\square + 7 = 11$





# Prefeitura Municipal de Grão-Pará

ESTADO DE SANTA CATARINA

SECRETARIA MUNICIPAL DE EDUCAÇÃO E CULTURA

4-

ADIÇÃO E SUBTRAÇÃO

+ 8	
2	
4	
9	
5	
6	
7	
8	

- 7	
13	
14	
19	
17	
16	
15	
12	

+ 7	
8	
2	
9	
5	
3	
6	
10	

- 9	
13	
15	
18	
19	
17	
16	
14	

+ 5	
9	
6	
10	
5	
4	
7	
8	

- 6	
12	
15	
10	
11	
14	
13	
16	